

TALLER N° 3

OA (2º Básico): Describir los modos de vida de algunos pueblos originarios de Chile en el período precolombino, incluyendo ubicación geográfica, medio natural en que habitaban, vida nómada o sedentaria, roles de hombres y mujeres, herramientas y tecnología, principales actividades, vivienda, costumbres, idioma, creencias, alimentación y fiestas, entre otros.

Objetivo (Requisito EA): Reconocer los pueblos nómades y sedentarios según sus formas de vida.

¿QUÉ HARÉ EN ESTE TALLER?

- Conocer los pueblos originarios que habitaron el actual territorio chileno antes de la llegada de los españoles.
- Reconocer las principales características de las formas de vida de cada uno de estos pueblos.

¡DESAFÍO!

1. Lee el siguiente reportaje y responde las preguntas adjuntas.

Los Beduinos son un pueblo árabe que viven como pastores y son conocidos por sus caravanas que cruzan los desiertos. La causa de su constante migración es la búsqueda de agua y tierra para su ganado. Cada grupo dispone de un territorio bien definido y para soportar el calor extremo del desierto, usan ropa ligera, túnicas que permiten la circulación de aire y protección contra la arena. La mayoría viven en tiendas bajas, hechas con tejido de pelo de camello o de cabra.



Fuente: www.ikuska.com y www.mundoetnico.com

A. Anota un ✓ en la casilla que describe la forma de vida de los Beduinos.

Nómade

Sedentario

B. Explica por qué seleccionaste la opción que marcaste en la respuesta anterior.

¡APRENDO MÁS!

Como ya sabes, antes de la llegada de los españoles, vivían diversos pueblos originarios en el actual territorio de Chile. Algunos se desplazaban de un lugar a otro en busca de alimento, pues vivían de la caza, la pesca y la recolección de frutos. Eran **nómades**. Otros vivieron para siempre en un mismo lugar, dentro de viviendas estables, cultivando la tierra y pastando al ganado. Estos fueron **sedentarios**.

TALLER 3: Para alcanzar el nivel ELEMENTAL HISTORIA, GEOGRAFÍA Y CIENCIAS SOCIALES 4º Básico

¡A TRABAJAR!

2. Une con una línea cada definición con su significado. Sigue el ejemplo.

Dependen de la caza, la pesca y la recolección.

Sedentario

Se establecen en un mismo lugar y en viviendas permanentes.

Se desplazan de un lugar a otro.

Nómade

Viven de la agricultura, el comercio y la ganadería.

3. Marca con un ✓ el pueblo originario representado en la siguiente imagen:

Changos

Mapuche

Aymara

Diaguita



A. Pinta los elementos de la imagen que te permitieron reconocer el pueblo originario representado en ella.

B. ¿Era sedentaria o nómada su forma de vida? Argumenta tu respuesta en función de la imagen y tus conocimientos acerca de este pueblo.

TALLER 3: Para alcanzar el nivel ELEMENTAL

HISTORIA, GEOGRAFÍA Y CIENCIAS SOCIALES 4º Básico

4. Observa las siguientes imágenes y completa cada ficha con la descripción de cada pueblo según sea nómada o sedentario. Sigue el ejemplo.



Nombre	Mapuche
Zona	Centro-Sur
Forma de vida	Sedentario




Nombre	Selknam
Zona	
Forma de vida	




Nombre	Diaguita
Zona	
Forma de vida	



Nombre	
Zona	Austral
Forma de vida	



Nombre	
Zona	Norte
Forma de vida	



Nombre	
Zona	
Forma de vida	

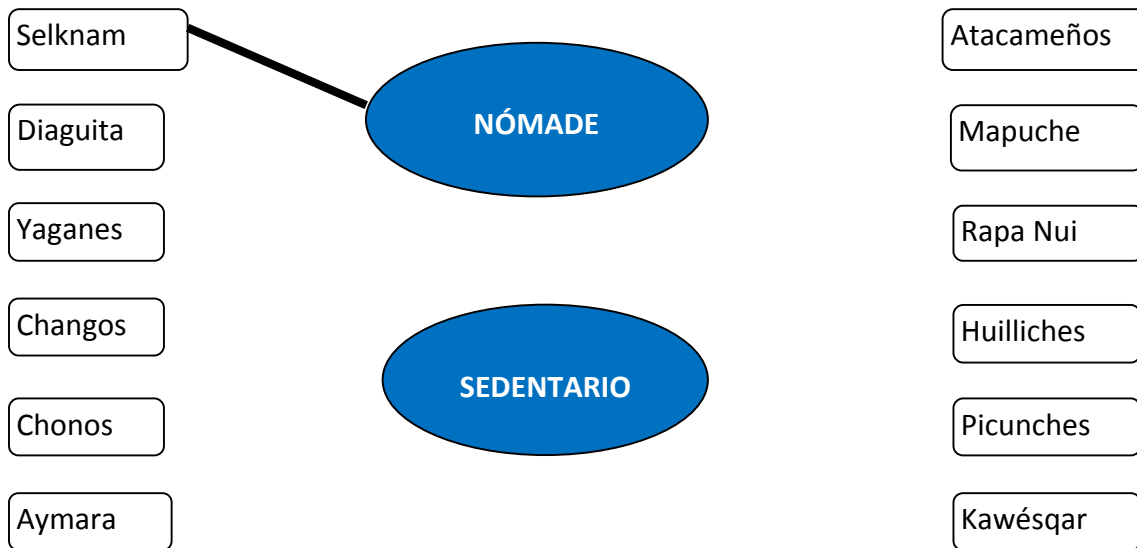
A. ¿Qué otro pueblo fue sedentario? Marca con un la correspondiente.
 Picunche Huilliche Pehuenche Kawésqar

B. ¿Por qué crees que las formas de vida nómada predominaban en los pueblos originarios de la Zona Austral? Explica.

TALLER 3: Para alcanzar el nivel ELEMENTAL HISTORIA, GEOGRAFÍA Y CIENCIAS SOCIALES 4º Básico

¡ME PONGO A PRUEBA!

5. Une cada pueblo con su respectiva forma de vida, según fueran nómades o sedentarios. Sigue el ejemplo:



A. Explica las características que compartían los pueblos originarios que eran nómades.

B. Explica las características que compartían los pueblos originarios que eran sedentarios.

6. Encierra con un círculo amarillo las zonas del mapa ocupadas por los pueblos nómades y con un círculo verde las zonas de los pueblos sedentarios.



TALLER 3: Para alcanzar el nivel ELEMENTAL

HISTORIA, GEOGRAFÍA Y CIENCIAS SOCIALES 4º Básico

¡ME PREPARO PARA EL SIMCE!

Lee las siguientes preguntas y marcando una X en la respuesta correcta.

1. ¿Por qué los Kawésqar son considerado un pueblo nómada?

- A. Porque vivían de la agricultura.
- B. Porque utilizaban piel de animales para abrigarse.
- C. Porque construyeron aldeas con materiales ligeros.
- D. Porque vivían en sus canoas de la pesca y la recolección de mariscos.


2. ¿Qué aspecto caracterizó la forma de vida de los Pehuenches?

- A. Nómada.
- B. Guerrero.
- C. Agricultor.
- D. Sedentario.

3. ¿Cuál de los siguientes pueblos originarios practicó una forma de vida sedentaria en la Zona Central del actual territorio chileno?

- A. Aymara.
- B. Diaguita.
- C. Picunche.
- D. Rapa nui.

4. ¿Cuál de las siguientes imágenes corresponde a un pueblo nómada de la Zona Austral?



- A. 1
- B. 2
- C. 3
- D. 4