

TALLER N° 2

OA: 2° Básico: Ubicar en mapas las zonas habitadas por algunos pueblos originarios de Chile, distinguiendo zonas norte, centro y sur.

Objetivo (Requisito EA): Identificar a los pueblos originarios de Chile.

¿QUÉ HARÉ EN ESTE TALLER?

- Conocer los pueblos originarios que habitaron el actual territorio chileno antes de la llegada de los españoles.
- Reconocer las principales características de las formas de vida de cada uno de estos pueblos.

¡DESAFÍO!

1. Observa la imagen y responde las preguntas junto a tu profesora o profesor.



A. ¿Qué pueblo originario se representa en esta ilustración?

B. ¿Sabes cómo vivía este pueblo antes de la llegada de los españoles al actual territorio chileno? Menciona al menos una de sus costumbres.

¡APRENDO MÁS!

Como ya sabes, el territorio chileno está lleno de diversos paisajes, desde el seco y caluroso desierto de Atacama hasta las frías temperaturas de los canales del extremo austral. Hoy aprenderás que, además de diverso, hace mucho tiempo atrás, cuando no existían los países que conocemos hoy, en el actual territorio de Chile, vivieron distintos pueblos y culturas. A estos pueblos y culturas los llamamos **pueblos originarios**, porque fueron los primeros habitantes de Chile.

TALLER 2: Para alcanzar el nivel ELEMENTAL HISTORIA, GEOGRAFÍA Y CIENCIAS SOCIALES 4º Básico

¡A TRABAJAR!

Pueblos originarios de la Zona Norte

Aymara

Vivieron en el Altiplano y ubicaron sus aldeas donde había agua. Cultivaron las laderas de las quebradas andinas y criaron llamas y alpacas, animales que usaban como transporte y para obtener alimento y lana. Los aymara vestían ropas de lana y sandalias de cuero; usaban el pelo largo, y hablaban la lengua aymara.

Atacameño

Vivieron cerca de las quebradas y oasis del desierto de Atacama y de las zonas andinas. Construyeron terrazas o escalones en los cerros para cultivar maíz, papas, porotos y quínoa. Criaron llamas y alpacas, animales que usaban como transporte y para obtener alimento y lana. Los atacameños utilizaban trajes tejidos y gorros forrados en piel. Hablaban kunza y construyeron aldeas y fortificaciones de piedra (*pukará*).

Diaguita

Vivían en los valles de Choapa a Copiapó. Allí aprovecharon la existencia de distintos ríos para obtener agua y desarrollar la agricultura. Los diaguitas se dedicaron a la alfarería, es decir, a la fabricación de vasijas de una gran variedad de formas y diseños de colores. Hablaban kakán, y vivían en aldeas.

Chango

Se desplazaban a lo largo de la costa de la zona Norte. Vivían en clanes familiares y se dedicaban a la recolección de mariscos y a la caza de focas y lobos marinos. Con la piel de los lobos marinos fabricaban embarcaciones. Además, intercambiaban productos con los atacameños. Estos últimos viajaban a la costa con productos agrícolas y tejidos, que cambiaban por peces y mariscos. A esta forma de comercio se le llama trueque.



TALLER 2: Para alcanzar el nivel ELEMENTAL

HISTORIA, GEOGRAFÍA Y CIENCIAS SOCIALES 4º Básico

2. Utiliza la información de la página anterior para completar la siguiente tabla sobre los pueblos originarios de la Zona Norte. Sigue el ejemplo de los **Aymara**.

	<i>Aymara</i>	Atacameño	Diaguita	Chango
¿Dónde vivían?	<i>En el Altiplano.</i>			
¿Cómo era el entorno natural?	<i>Montañoso y desértico, con agua y quebradas.</i>			
¿A qué se dedicaban?	<i>A la agricultura, la ganadería, textilería y el intercambio de productos.</i>			

A. Une cada pueblo con su respectiva característica mediante una línea. Sigue el ejemplo.

Atacameño	Cultivaron las laderas de las quebradas andinas y criaron llamas y alpacas.
Chango	Destacaron por la fabricación de cerámicas de complejos diseños y colores.
Aymara	Vivían en clanes familiares y de la recolección de mariscos y de la caza de focas y lobos marinos.
Diaguita	Vivieron en los oasis y quebradas del desierto de Atacama. Cultivaban la tierra y hablaban kaklan.

TALLER 2: Para alcanzar el nivel ELEMENTAL

HISTORIA, GEOGRAFÍA Y CIENCIAS SOCIALES 4º Básico

Pueblos originarios de la Zona Central y Sur

Desde el valle del Aconcagua hasta el seno de Reloncaví, se encontraba la mayor parte de los habitantes del actual territorio nacional, que a pesar de sus diferencias, poseían una base lingüística común: el mapudungún. El predominio de la agricultura fue matizado por la recolección de frutos, la pesca y la ganadería, de acuerdo al paisaje particular que ocupaba cada pueblo a lo largo y ancho de esta extensa zona geográfica.

Mapuches

Vivían en la zona sur, entre los ríos Itata y Tolten. Estaban organizados en *lof* o comunidades integradas por grupos de parientes. El *lonko* era el jefe de varios *lof*, pero en los tiempos de guerra los mapuches elegían un segundo jefe, el *toqui*. Los hombres cazaban y preparaban a sus hijos varones para ser buenos guerreros y cazadores. Las mujeres cultivaban la tierra, tejían y recolectaban frutos, con ayuda de los niños. De vez en cuando, se trasladaban a otros lugares para cazar o recolectar frutos.

Picunches (pikunches)

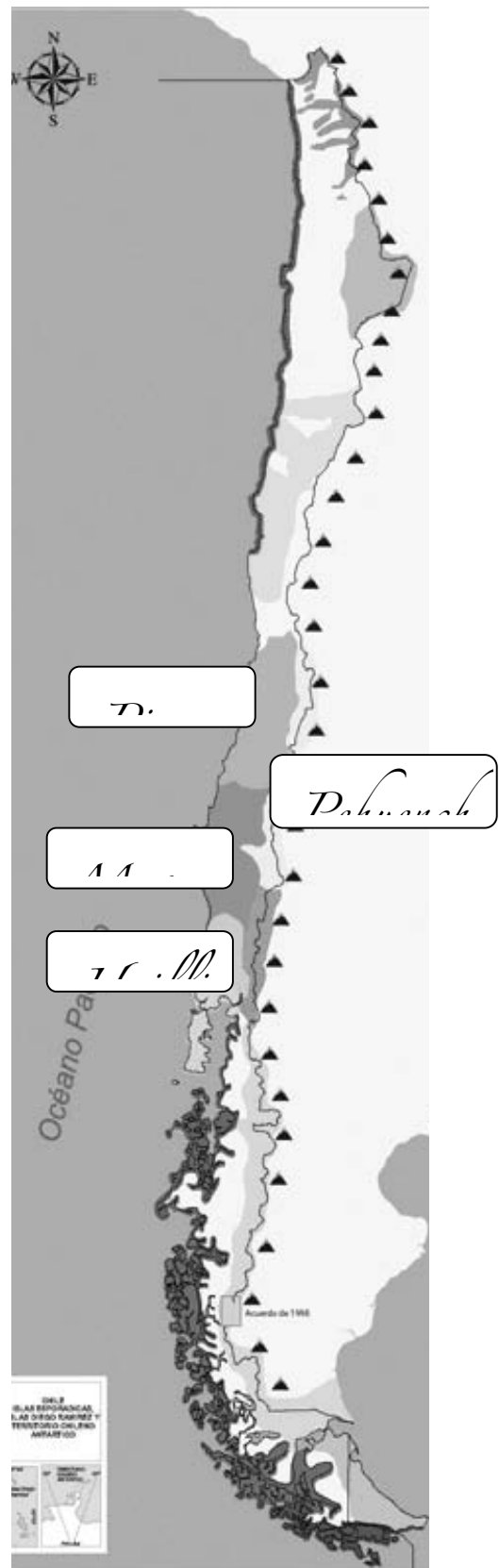
Se localizaban en la Zona Central, entre los ríos Aconcagua e Itata. Eran sedentarios y vivían en grupos liderados por un *lonko*. Cultivaron maíz, porotos, papas, zapallos y ají, y criaron guanacos y llamas; también desarrollaron la alfarería.

Pehuenches (pewenches)

Se localizaban en la precordillera de los Andes. Se dedicaban a la caza de animales y a la recolección del pehuén o piñón, el fruto de la araucaria. Habitaban en toldos fabricados con cueros y ramas.

Huiliches (Williches)

Vivían en la zona sur. Eran sedentarios y practicaban la agricultura y la ganadería. Además, obtenían alimentos del mar. Hablaban una variante del mapudungún. llamada *tsesugan*.



**TALLER 2: Para alcanzar el nivel ELEMENTAL
HISTORIA, GEOGRAFÍA Y CIENCIAS SOCIALES 4º Básico**

3. Completa la siguiente tabla respondiendo sus preguntas. Sigue el ejemplo.

	Picunches	Mapuches	Huilliches	Pehuenches
¿Dónde vivían?	<i>Entre el río Aconcagua y el río Itata.</i>			
¿Cómo era el entorno natural?	<i>.Valle central, con agua y suelos fértiles.</i>			
¿A qué se dedicaban?				<i>A la caza de distintos animales y la recolección de piñón.</i>

4. Completa el siguiente cuadro anotando el nombre del pueblo originario corresponde a cada descripción. Sigue el ejemplo de los **pehuenches**.

Vivían en la precordillera y se dedicaban a la caza de animales y a la recolección del pehuén o piñón.	Pehuenche
Cultivaron maíz, porotos, papas, zapallos y ají, y criaron guanacos y llamas; también desarrollaron la alfarería.	
Vivían en la zona sur. Eran sedentarios y practicaban la agricultura y la ganadería.	
Los hombres cazaban y preparaban a sus hijos varones para ser buenos guerreros y cazadores. Las mujeres cultivaban la tierra, tejían y recolectaban frutos, con ayuda de los niños.	

TALLER 2: Para alcanzar el nivel ELEMENTAL HISTORIA, GEOGRAFÍA Y CIENCIAS SOCIALES 4º Básico

Pueblos originarios de la Zona Austral y Oceánica

Selknam

Formaban pequeños grupos o bandas que recorrían Tierra del Fuego. Los hombres cazaban guanacos y zorros, mientras las mujeres y los niños se dedicaban a la caza de aves y a la recolección de huevos, hongos y frutos. Vivían en toldos fabricados con ramas y pieles de guanaco.

Aónikenk

Formaban bandas dedicadas a la caza de guanacos y ñandúes y a la recolección de frutos. Vivían en la Patagonia, en toldos construidos con cuero de guanaco, y se vestían con taparrabos hechos de cuero.

Chonos

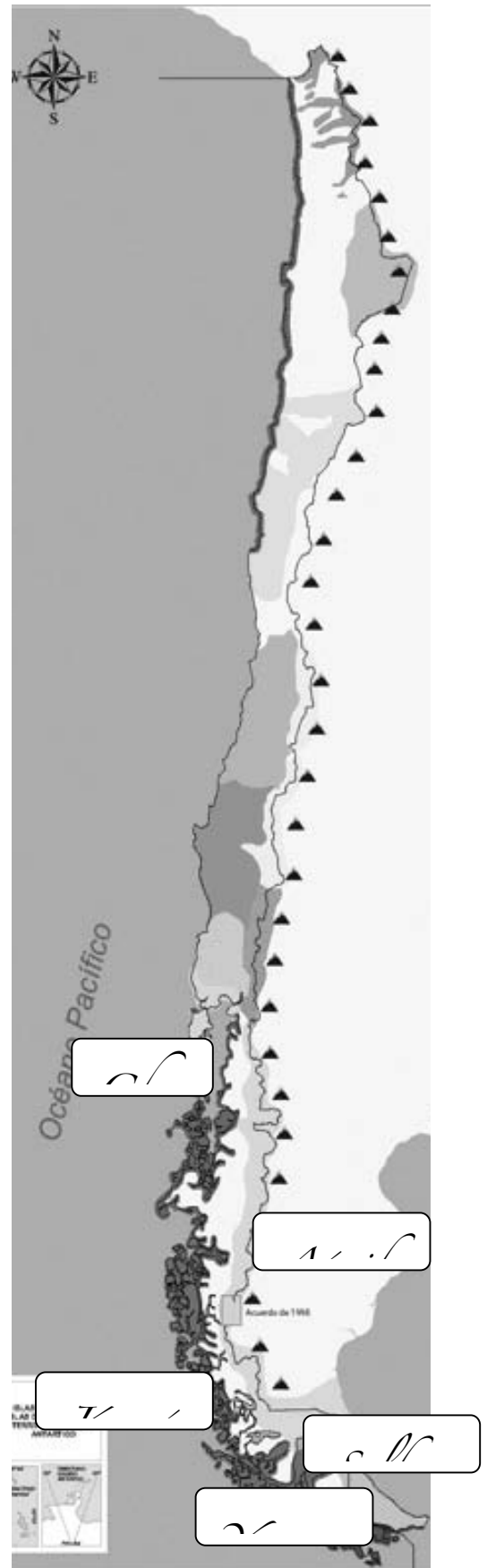
Vivían en las islas cercanas a Chiloé. Se organizaban en pequeños grupos que se desplazaban en embarcaciones llamadas dalcas. Pescaban lobos marinos y peces, y las mujeres se encargaban de recolectar mariscos. Vivían en toldos o cuevas en las zonas costeras.

Kawésqar y Yaganes

Navegaban por los canales de la Zona Austral de Chile, pescando y recolectando mariscos. Pasaban gran parte de su vida en canoas construidas con troncos y cortezas de árboles. Cuando bajaban a tierra, hacían viviendas temporales con ramas y cueros. Para protegerse del frío, cubrían sus cuerpos con grasa de pescado y pieles.

Rapa nui

Vivían en Isla de Pascua o Rapa Nui. Se agrupaban en clanes formados por familias que tenían un antepasado común y su gobernante era un rey, el ariki. Obtenían alimento del cultivo de vegetales y de los recursos que sacaban del mar. Una de las cosas más llamativas de la cultura rapa nui son los moáis. Se cree que los moáis representaban a los antepasados y que protegían a la comunidad. Los rapa nui desarrollaron un sistema de escritura en tablillas, llamado rongorongo, que aún no se ha podido descifrar.



TALLER 2: Para alcanzar el nivel ELEMENTAL

HISTORIA, GEOGRAFÍA Y CIENCIAS SOCIALES 4º Básico

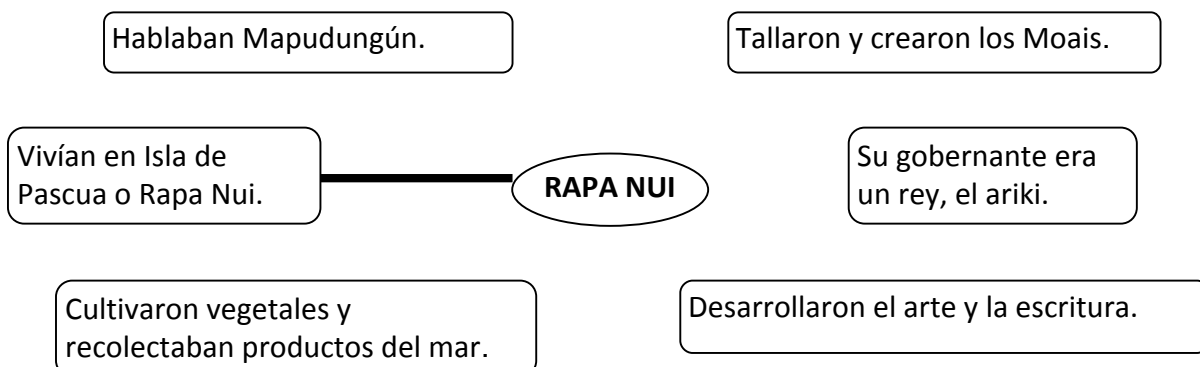
5. Utiliza la información de la página 6 para identificar las características de los pueblo originarios de la Zona Austral, marcando un ✓ donde corresponda. Sigue el ejemplo.

	Selknam	Aónikenk	Chonos	Kawésqar y Yaganes
A. ¿Eran canoeros?		✓	✓	✓
B. ¿Practicaron la caza para vivir?				
C. ¿Se dedicaron a la agricultura?				
D. ¿Vestían con pieles de guanacos?				
E. ¿Fabricaban viviendas con ramas y pieles?				

6. Anota las principales características del entorno natural donde vivieron los pueblos originarios de la Zona Austral.

Chonos	<ul style="list-style-type: none"> - Vivían en las islas cercanas a Chiloé. - Era una zona marítima apta para la navegación. - Tenían un clima templado lluvioso.
Aónikenk	
Selknam	
Kawésqar y Yaganes	

7. Une con una línea cada característica con la palabra Rapa Nui, en caso que sea representativa de este pueblo originario. Sigue el ejemplo.



TALLER 2: Para alcanzar el nivel ELEMENTAL HISTORIA, GEOGRAFÍA Y CIENCIAS SOCIALES 4º Básico

¡ME PONGO A PRUEBA!

8. Une con una línea el pueblo originario con su respectiva característica geográfica.

Vivían en la precordillera de la Zona Central	Selknam
Cultivaron los oasis y quebradas del desierto.	Diaguita
Vivían entre los ríos Itata y Tolten	Mapuche
Habitaron la Isla de Tierra del Fuego.	Chango
Levantaron sus aldeas en el Altiplano.	Picunche
Habitaron la costa del Norte Grande.	Aónikenk
Navegaban por los canales de la Zona Austral	Aymara
Habitaron la Zona Sur y hasta la Isla de Chiloé.	Rapa Nui
Se localizaban entre los ríos Aconcagua e Itata.	Pehuenche
Habitaron la Isla de Chiloé y sus costas.	Atacameño
Vivieron entre los valles de Copiapó y del Choapa.	Huilliche
Cazaron a lo largo de la Patagonia.	Chonos
Vivían en Isla de Pascua, en el océano Pacífico.	Kaweskar y Yaganes

TALLER 2: Para alcanzar el nivel ELEMENTAL HISTORIA, GEOGRAFÍA Y CIENCIAS SOCIALES 4º Básico

¡ME PREPARO PARA EL SIMCE!

Lee las siguientes preguntas y marcando una X en la respuesta correcta.

1. “Se dedicaron a la navegación, pesca y recolección de mariscos, a lo largo de los canales de la Zona Austral”. ¿A cuál de las siguientes culturas originarias corresponde esta descripción?

- A. Changos.
- B. Selknam.
- C. Mapuches.
- D. Kawésqar.

2. ¿Qué pueblo vivió de la caza de los animales y la recolección del Piñón?

- A. Pehuenche.
- B. Picunche.
- C. Diaguita.
- D. Chono.

3. ¿Cuál fue una de las características más importantes del pueblo atacameño?

- A. Construyeron balsas de lobo marino para navegar por las costas del Norte.
- B. Desarrollaron técnicas de cultivos y utilizaban trajes tejidos y gorros forrados en piel.
- C. Estaban organizados en lof o en comunidades integradas por grupos de parientes.
- D. Cazaban guanacos, aves y zorros, mientras las mujeres recolectaban vegetales, huevos y hongos.

4. “Hola, mi nombre es Antileo, y antes de la llegada de los españoles, mis antepasados vivían de la tierra, tejían con lana y cazaban guanaco en la zona centro y sur”. ¿A qué pueblo pertenecieron los antepasados de Antileo?

- A. Aymara.
- B. Rapanui.
- C. Mapuche.
- D. Pehuenche.